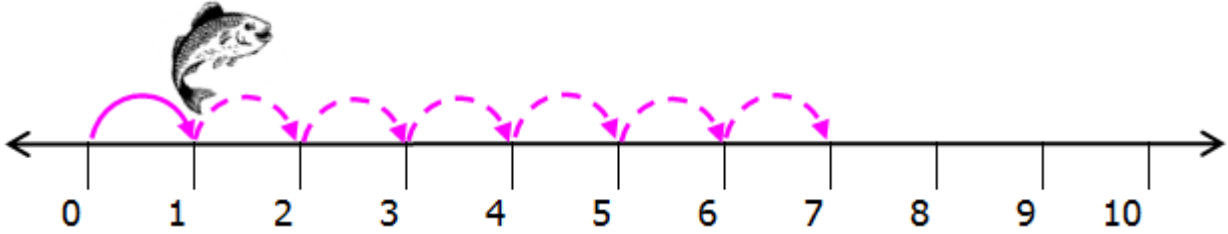
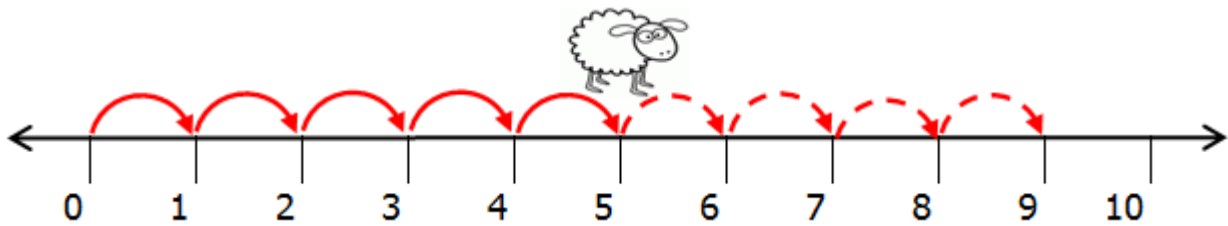


เพื่อให้รู้จักวิธีใช้เส้นจำนวน ให้เด็กๆเติมตัวเลขลงใน (ไปทางขวา = เพิ่มขึ้น)



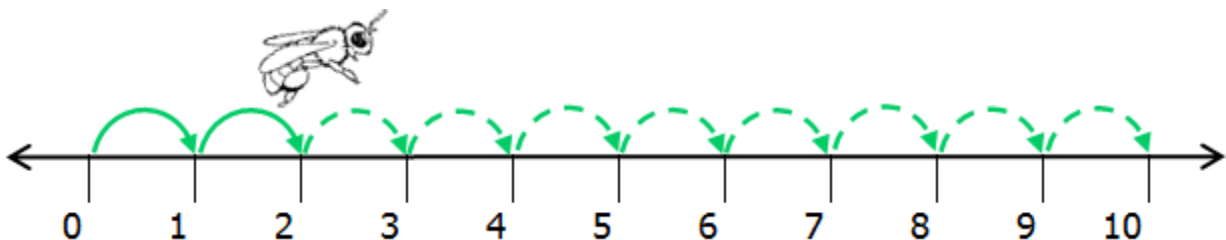
ปลาอยู่ที่ตำแหน่ง ถ้าว่ายน้ำไปทางขวาก็ ช่อง

$1 + 6 = 7$



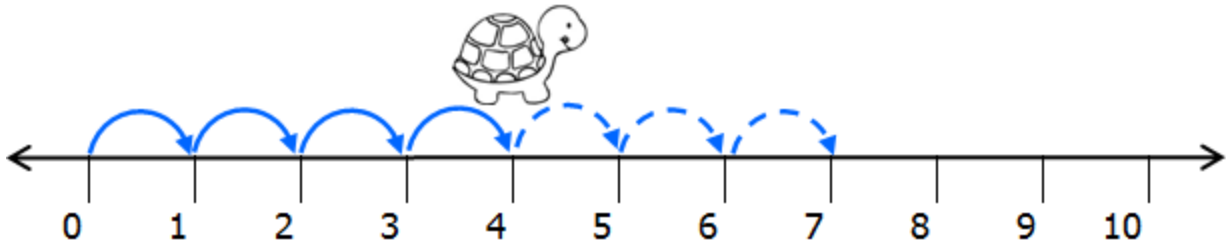
ลูกแกะอยู่ที่ตำแหน่ง ถ้าเดินไปทางขวาก็ ช่อง

$= \text{ } = \text{ }$



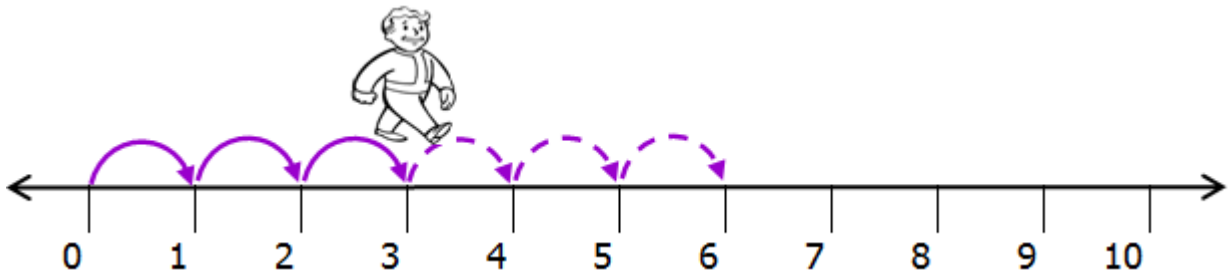
ผึ้งน้อยอยู่ที่ตำแหน่ง ถ้าบินไปทางขวาก็ ช่อง

$= \text{ } = \text{ }$



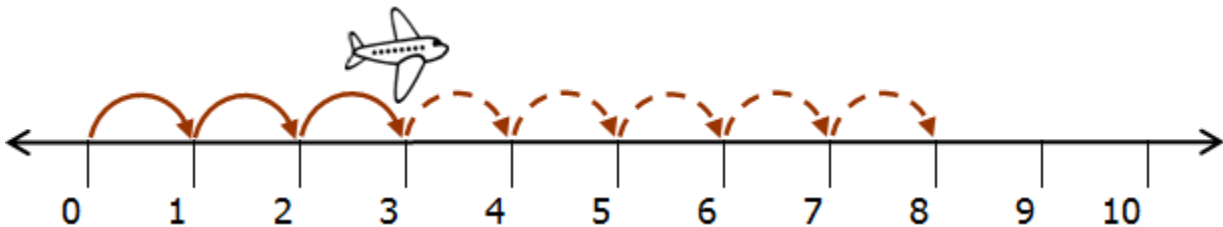
เต่าอยู่ที่ตำแหน่ง ถ้าเดินไปทางขวาก็ ช่อง

= =



คุณลุงอยู่ที่ตำแหน่ง ถ้าเดินไปทางขวาก็ ช่อง

= =



เครื่องบินอยู่ที่ตำแหน่ง ถ้าบินไปทางขวาก็ ช่อง

= =