

ตัวอย่างแบบทดสอบ
บทที่ 1 จำนวนนับไม่เกิน 100,000

คะแนนเต็ม 35 คะแนน

เวลา 60 นาที

จงเติมคำตอบ

1. จงเขียน 29,053 เป็นตัวหนังสือ (วัดจุดประสงค์การเรียนรู้ที่ 1 1 คะแนน)
ตอบ _____
2. จงเขียน 80,614 เป็นตัวเลขไทย (วัดจุดประสงค์การเรียนรู้ที่ 1 1 คะแนน)
ตอบ _____
3. จงเขียนเจ็ดหมื่นสี่พันสี่สิบห้า เป็นตัวเลขฮินดูอารบิก (วัดจุดประสงค์การเรียนรู้ที่ 1 1 คะแนน)
ตอบ _____
4. จงเขียน 10,832 ในรูปกระจาย (วัดจุดประสงค์การเรียนรู้ที่ 2 1 คะแนน)
ตอบ _____
5. จงเขียน 60,401 ในรูปกระจาย (วัดจุดประสงค์การเรียนรู้ที่ 2 1 คะแนน)
ตอบ _____
6. ตัวเลขที่ขีดเส้นใต้ของ 34,172 มีค่าเท่าไร (วัดจุดประสงค์การเรียนรู้ที่ 2 1 คะแนน)
ตอบ _____
7. จงเติมเครื่องหมาย > หรือ < หรือ = ลงในช่องว่างให้ถูกต้อง (วัดจุดประสงค์การเรียนรู้ที่ 3 ขอละ 1 คะแนน)
 - (1) 30,846 _____ 9,732
 - (2) 28,095 _____ 28,147
 - (3) 50,708 _____ 50,000 + 700 + 8
8. จงเรียงลำดับจำนวนจากมากไปน้อย (วัดจุดประสงค์การเรียนรู้ที่ 4 1 คะแนน)
68,135 31,840 9,825 40,271
ตอบ _____
9. จงเรียงลำดับจำนวนจากน้อยไปมาก (วัดจุดประสงค์การเรียนรู้ที่ 4 1 คะแนน)
15,368 10,796 27,031 8,675
ตอบ _____

10. จงเติมตัวเลขลงในช่องว่างให้ถูกต้อง

(วัตถุประสงค์การเรียนรู้ที่ 5 ขอละ 2 คะแนน)

(1) นับเพิ่มทีละ 4

4, 8, _____, _____

(2) นับเพิ่มทีละ 25

25, _____, _____

(3) นับเพิ่มทีละ 3

3, 6, 9, 12, _____, _____

11. จงเติมตัวเลขลงในช่องว่างให้ถูกต้อง

(วัตถุประสงค์การเรียนรู้ที่ 6 ขอละ 2 คะแนน)

(1) นับลดทีละ 50

1,050, 1,000, _____, _____

(2) นับลดทีละ 25

275, _____, _____

(3) นับลดทีละ 4

80, 76, 72, 68, _____, _____

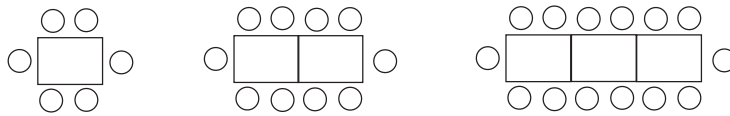
12. พิจารณาแบบรูปที่กำหนดให้ แล้วเติมตัวเลข
ลงในช่องว่างให้ถูกต้อง

(วัตถุประสงค์การเรียนรู้ที่ 7 ขอละ 1 คะแนน)

(1) 9, 13, 17, 21, 25, _____

(2) 126, 151, 176, _____, 226

(3) พิจารณาการจัดโต๊ะและเก้าอี้เพื่องานเลี้ยง ดังรูป ถ้า แทนโต๊ะ 1 ตัว แทนเก้าอี้ 1 ตัว



ถ้าจัดโต๊ะ 5 ตัวต่อกันจะต้องจัดเก้าอี้ _____ ตัว

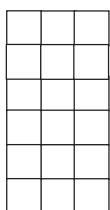
13. พิจารณาแบบรูปที่กำหนดให้ แล้วเติมตัวเลข
ลงในช่องว่างให้ถูกต้อง

(วัตถุประสงค์การเรียนรู้ที่ 8 ขอละ 1 คะแนน)

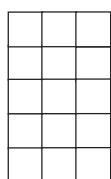
(1) 82, 79, 76, 73, 70, _____

(2) 222, 193, 172, 147, _____

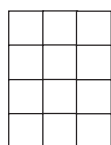
(3) พิจารณาการวางเรียงรูปสี่เหลี่ยมต่อไปนี้



รูปที่ 1



รูปที่ 2



รูปที่ 3

.....

รูปที่ 4

.....

รูปที่ 5

.....

รูปที่ 6

ถ้าวางเรียงต่อไป รูปที่ 6 จะมีรูปสี่เหลี่ยม _____ รูป

14. พิจารณาแบบรูปที่กำหนดให้ และเติมตัวเลข
ลงในช่องว่างให้ถูกต้อง

(วัดจุดประสงค์การเรียนรู้ที่ 9 ขอละ 2 คะแนน)

- (1) 91, 93, 95, 91, 93, 95, 91, _____, _____
- (2) 7, 7, 8, 8, 8, 7, 7, 8, 8, 8, 7, 7, 8, _____, _____
- (3) 12, 14, 16, 12, 14, 16, 12, ... จำนวนที่ 20 คือ _____
